

中期選抜学力検査

検査 2 社 会

解答上の注意

- 1 「始め」の指示があるまで、問題を見てはいけません。
- 2 問題は、この冊子の中の1～4ページにあります。
- 3 答案用紙には、受付番号を記入しなさい。氏名を書いてはいけません。
- 4 答案用紙の答の欄に答えを記入しなさい。採点欄に記入してはいけません。
- 5 答えを記入するときは、それぞれの問題に示してある【答の番号】と、答案用紙の【答の番号】とが一致するように注意しなさい。
- 6 答えを記号で選ぶときは、答案用紙の答の欄の当てはまる記号を○で囲みなさい。答えを訂正するときは、もとの○をきれいに消すか、それに×をつけなさい。
- 7 答えを記述するときは、丁寧に書きなさい。
- 8 答えの書き方について、次の解答例を見て間違いのないようにしなさい。

解答例

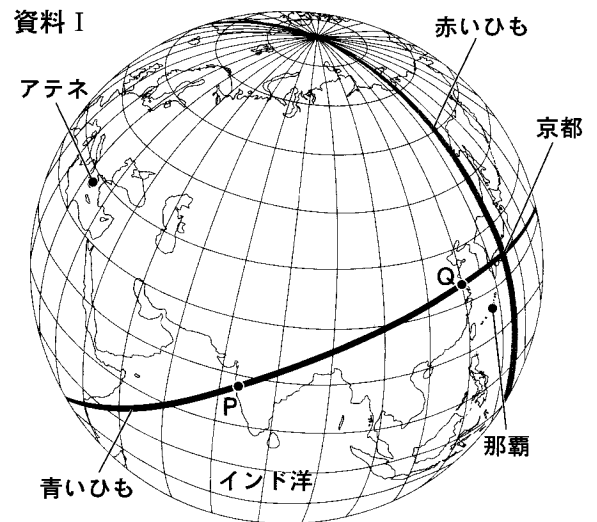
- 1 火曜日の翌日は何曜日か、漢字1字で書け。  
 .....答の番号【1】
- 2 次のA～Cの数を値の小さいものから順に並べかえ、記号で書け。 .....答の番号【2】  
 A 7      B 5      C 3
- 3 次の問い(1)・(2)に答えよ。  
 (1) 「京」の画数として最も適当なものを、次の(ア)～(ウ)から1つ選べ。  
 .....答の番号【3】  
 (ア) 6画      (イ) 8画      (ウ) 10画  
 (2) 奇数を、次の(ア)～(オ)からすべて選べ。  
 .....答の番号【4】  
 (ア) 1      (イ) 2      (ウ) 3  
 (エ) 4      (オ) 5

問題番号	答の番号	答の欄	採点欄
1	【1】	水 曜日	[1]
2	【2】	(C)→(B)→(A)	[2]
3	(1) 【3】	ア    (イ)    ウ	[3]
	(2) 【4】	(ア) (イ) (ウ) (エ) (オ)	[4]

検査	受付番号	得点
2	123456	

[字数制限がある場合は、句読点や符号なども1字に数える。]

1 歩<sup>あゆむ</sup>さんは、地球儀とひもを用いて、京都からみた方位について調べた。まず、赤いひもを京都にあて、北極と南極を通して最短経路で地球儀を一周するように地球儀に固定した。次に、青いひもを、京都で赤いひもと直角に交わるように地球儀にあて、最短経路で地球儀を一周するように固定したところ、赤いひもと青いひもは、地球儀上で京都の正反対となる地点でも交わった。右の資料Ⅰは、歩さんがひもを固定した地球儀をある方向からみた図であり、緯線と経線はともに0度を基準に10度の間隔で描かれている。これを見て、次の問い(1)～(5)に答えよ。(10点)

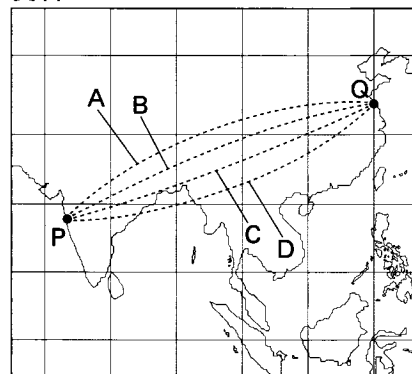


(1) 資料Ⅰ中のアテネはギリシャの首都である。京都からみたアテネの方位として最も適当なものを、次の(ア)～(エ)から1つ選べ。……………答の番号【1】

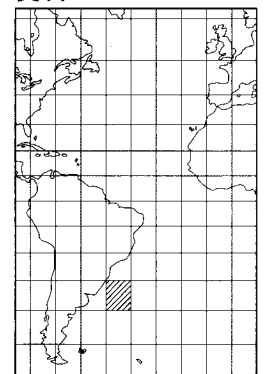
- (ア) 東 (イ) 西  
(ウ) 北東 (エ) 北西

(2) 右の資料Ⅱ・Ⅲは、それぞれ緯線と経線が直角に交わった世界地図の一部である。資料Ⅱ・Ⅲにおいては、それぞれの縮尺は異なるが、緯線と経線はともに0度を基準に10度の間隔で描かれている。歩さんは、資料Ⅰ中のPとQの地点の間で青いひもが通る道すじを資料Ⅱ中に示した。PとQの間で青いひもが通る道すじとして最も適当なものを、資料Ⅱ中のA～Dから1つ選べ。また、歩さんは、資料Ⅰ中の京都と那覇のそれぞれについて、地球上で正反対となる地点を表すために資料Ⅲを作成した。資料Ⅲ中に斜線で示した範囲は、10度ごとの緯線と経線で囲まれた範囲のうち、地球上で京都の正反対となる地点を含む最小の範囲である。資料Ⅲ中の10度ごとの緯線と経線で囲まれた範囲のうちから、地球上で那覇の正反対となる地点を含む最小の範囲を1つ選び、答案用紙の地図中で、その範囲にあたる部分をすべて黒く塗って示せ。

資料Ⅱ



資料Ⅲ



資料Ⅲ中に斜線で示した範囲は、10度ごとの緯線と経線で囲まれた範囲のうち、地球上で京都の正反対となる地点を含む最小の範囲である。資料Ⅲ中の10度ごとの緯線と経線で囲まれた範囲のうちから、地球上で那覇の正反対となる地点を含む最小の範囲を1つ選び、答案用紙の地図中で、その範囲にあたる部分をすべて黒く塗って示せ。……………答の番号【2】

(3) 資料Ⅰ中のインド洋について調べた歩さんは、岩倉具視<sup>いわくらともみ</sup>を中心とした使節団が1873年にインド洋を横断して日本に帰国したことを知った。次のA～Dはこの使節団の帰国後に日本で起こったできごとである。A～Dを古いものから順に並べかえ、記号で書け。……………答の番号【3】

- A 関税自主権を完全に回復した。 B 西郷隆盛<sup>さいごうたかもり</sup>が政府を去った。  
C 内閣制度ができた。 D 国会期成同盟<sup>こくわいきせいどうめい</sup>が作られた。

(4) 歩さんは、資料Ⅰ中で赤いひもが通る国のうち、ロシアについて調べた。ロシアでは、1917年に革命が起こり、1922年にソ連が成立した。この革命が起こる前のロシアの様子について述べた文として最も適当なものを、次のi群(ア)～(エ)から1つ選べ。また、第二次世界大戦の時期のソ連の指導者で、重工業中心の工業化と農業の集団化を強行した人物を、下のii群(カ)～(ケ)から1つ選べ。……………答の番号【4】


- i群 (ア) 国民政府が、共産党との戦いを続けていた。  
(イ) 戦争や専制政治に対する民衆の不満が高まっていた。  
(ウ) 世界恐慌<sup>せかいこうこう</sup>によって失業者が増加し、労働争議が多発していた。  
(エ) 鉄道建設の利権などを獲得した列強の勢力を排除しようとする運動が盛んになっていた。

- ii群 (カ) ムッソリーニ (キ) スターリン (ク) レーニン (ケ) チャーチル



(5) 歩さんは、資料Ⅰ中で青いひもが通る大陸のうち、アフリカ大陸について調べた。アフリカ大陸について述べた文として適当なものを、次の(ア)～(オ)からすべて選べ。……………答の番号【5】

- (ア) 世界で最も大きい砂漠がある。 (イ) 第一次世界大戦の講和会議により、多くの国々が独立した。  
(ウ) 人口が世界で最も多い国がある。 (エ) 北部では、イスラム教が広く信仰されている。  
(オ) A P E Cの加盟国がある。

【裏へつづく】

2 緑さんは、長崎県の位置や海との関わりに着目し、さまざまなことを調べた。右の資料Ⅰは、長崎県とその周辺の地域の地図をもとにして緑さんが作成している資料の一部であり、は海流を示している。これを見て、次の問い(1)～(10)に答えよ。

(20点)

(1) 資料Ⅰ中にで示された海流として最も適当なものを、次のi群(ア)～(ウ)から1つ選べ。また、で示された海流は暖流と寒流のどちらか、下のii群(カ)・(キ)から1つ選べ。……………答の番号【6】

- i群 (ア) 千島海流(親潮) (イ) 対馬海流 (ウ) リマン海流  
ii群 (カ) 暖流 (キ) 寒流

(2) 緑さんは、資料Ⅰ中の小茂田浜に、鎌倉時代後半に元軍の船団が襲来したことを知った。鎌倉時代後半の日本の社会について述べた文として最も適当なものを、次の(ア)～(エ)から1つ選べ。……………答の番号【7】

- (ア) 幕府の政治や荘園の支配に反抗する人々が現れ、悪党とよばれた。  
(イ) 各地の守護大名が家臣にたおされるなど、下剋上の風潮が広まった。  
(ウ) 団結した農民が、土倉や酒屋を襲ったり徳政令を要求したりする動きが各地で起こった。  
(エ) 新田の開発に力を入れた幕府が、大規模な干拓などによって農地を増やした。

(3) 緑さんは、資料Ⅰ中の佐世保市がかつて日本の海軍の拠点の一つであったことや、第二次世界大戦後に「平和都市宣言」を行ったことを知り、平和の実現のために世界で行われている取り組みについて調べた。国際連合が行っている平和維持活動の略称をアルファベット大文字3字で書け。また、国際協調の進展にはサミット(主要国首脳会議)も重要な役割を果たしている。右の資料Ⅱは、1945年以降のおもなできごとを緑さんが年代順に並べて作成したものである。サミットが世界で初めて開催された時期を、資料Ⅱ中のA～Dから1つ選べ。……………答の番号【8】

資料Ⅱ

1945年	ポツダム宣言の受諾	
	↓……………	A
1950年	朝鮮戦争の開始	
	↓……………	B
1973年	石油危機の発生	
	↓……………	C
1989年	冷戦の終結	
	↓……………	D
2003年	イラク戦争の開始	

(4) 緑さんは、資料Ⅰ中の平戸港を、イエズス会のフランシスコ・ザビエルが16世紀半ばに訪れたことを知った。右の資料Ⅲは、16世紀の世界で起こったできごとを、地域ごとに緑さんがまとめたものの一部である。資料Ⅲ中のA・Bに入るものとして最も適当なものを、Aは次のi群(ア)・(イ)から、Bはii群(カ)・(キ)から、それぞれ1つずつ選べ。また、Cに入るできごととして最も適当なものを、下のiii群(サ)～(セ)から1つ選べ。

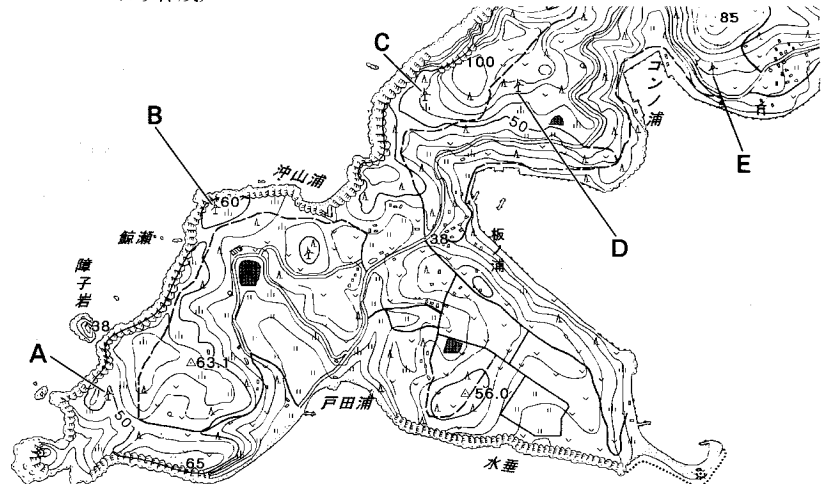
資料Ⅲ

地域	できごと
ヨーロッパ州	教皇のA人々がB。これに対して、カトリック教徒の間には、イエズス会を中心に勢力の回復を図る運動が起こった。
南アメリカ州	C。

- i群 (ア) 呼びかけに賛同した (イ) 方針に反対した  
ii群 (カ) 宗教改革を始めた (キ) 十字軍を編成した  
iii群 (サ) オランダがスペインから独立した (シ) 独自の文明がスペイン人にほろぼされた  
(ス) 大陸横断鉄道が開通した (セ) 植民地の人々がイギリスからの独立宣言を発表した

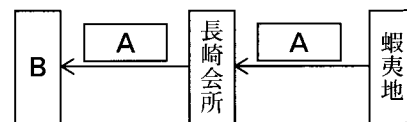
(5) 緑さんは、資料Ⅰ中の的山大島では海から吹きつける風を利用して風力発電が行われていることを知った。右の資料Ⅳは、的山大島の2万5000分の1地形図の一部である。資料Ⅳ中に示されたA～Eの風車のうち、標高が最も高い地点に設置されているものと、最も低い地点に設置されているものを、それぞれ1つずつ選べ。……………答の番号【10】

資料Ⅳ (平成28年国土地理院調製2万5000分の1地形図「的山大島」・「生月島北部」より作成)



(6) 緑さんは、資料Ⅰ中の長崎市に、かつて江戸幕府が長崎会所という機関を設け、中国との貿易を管理していたことを知った。右の資料Ⅴは、この貿易で長崎会所を経て中国へ輸出された蝦夷地の特産物の流れについて、緑さんが作成した模式図の一部である。資料Ⅴ中のAは特産物を、Bは明にかわって中国を支配した国を示している。Aにあたるものとして最も適当なものを、次の(ア)～(エ)から1つ選べ。また、Bにあたる国のよび名を、漢字1字で書け。……………答の番号【11】

資料Ⅴ



- (ア) 海産物 (イ) しょう油 (ウ) 酒 (エ) 綿織物

(7) 緑さんは、資料Ⅰ中の福江島が、遣唐使船が立ち寄る地として、8世紀につくられた「肥前国風土記」に記されていることを知った。8世紀の日本のできごととして適当でないものを、次のi群(ア)～(エ)から1つ選べ。また、「肥前国風土記」と同じく8世紀につくられた書物を、下のii群(カ)～(ケ)から1つ選べ。……………答の番号【12】

- i群 (ア) 墾田永年私財法が出された。 (イ) 東大寺の建立が始まった。  
 (ウ) 長岡京に都がうつされた。 (エ) 天武天皇が即位した。

- ii群 (カ) 古事記伝 (キ) 古今和歌集 (ク) 方丈記 (ケ) 日本書紀

(8) 緑さんは、海洋に関する国際的なルールは国連海洋法条約にまとめられていることを知った。次の文章は、現代の日本における条約の承認、締結、公布を行う機関などについて緑さんが書いたものである。文章中のA・Bに入る語句を、下のi群(ア)～(ウ)からそれぞれ1つずつ選べ。また、Cに入る語句を、下のii群(カ)～(ク)から1つ選べ。……………答の番号【13】

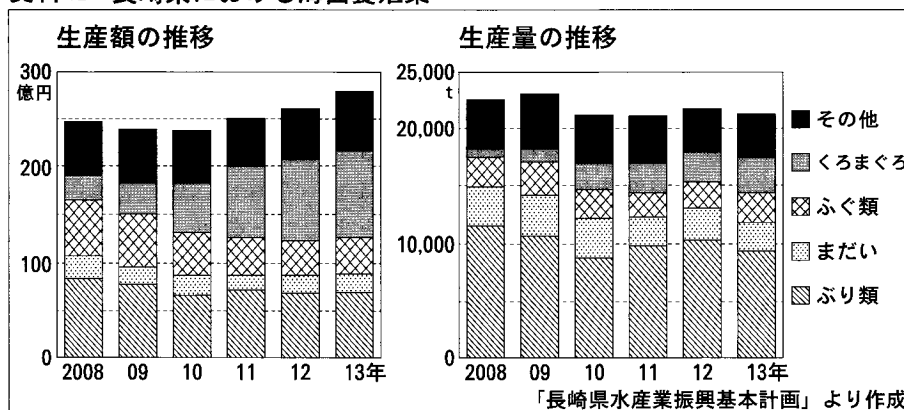
条約は、Aが承認し、Bが締結する。また、条約の公布は天皇が行う。条約の公布は、Cに定められている国事行為の一つである。

- i群 (ア) 最高裁判所 (イ) 内閣 (ウ) 国会

- ii群 (カ) 憲法 (キ) 法律 (ク) 条例

(9) 緑さんは、長崎県で水産業が盛んなことを知った。右の資料Ⅵは、2008年から2013年までの長崎県における海面養殖業について、魚の種類ごとの生産額と生産量の推移を緑さんが調べて作成したものである。長崎県における海面養殖業に関して資料Ⅵから読み取れることとして最も適当なものを、次の(ア)～(エ)から1つ選べ。

資料Ⅵ 長崎県における海面養殖業



…答の番号【14】

- (ア) 2008年から2013年まで、海面養殖業の生産額と生産量はどちらも毎年増加している。  
 (イ) 2008年の生産額と2013年の生産額の差が最も大きいのはふぐ類である。  
 (ウ) 2013年において、ぶり類の生産量1tあたりの生産額は、くろまぐろの生産量1tあたりの生産額より多い。  
 (エ) まだいの生産量1tあたりの生産額は、2009年より2013年のほうが多い。

(10) 緑さんは、長崎県で造船業が盛んなことを知った。船舶の建造には、輸入された鉱産資源を用いた材料やエネルギーなどが使われる。また、長崎県で建造された船舶の多くは海外へ輸出されている。次の文章は、輸入や輸出にたずさわる企業について緑さんが書いたものである。文章中のAに入る適当な表現を、価値という語句を用いて7字以上、10字以内で書け。また、Bに入る語句を、下の(ア)・(イ)から1つ選べ。……………答の番号【15】

輸入や輸出にたずさわる企業に影響を与えるものの一つに、為替相場の変動がある。たとえば「1ドル＝100円」から「1ドル＝90円」になるときのように、ドルなどの外国の通貨に対してAことをBという。この場合は、一般に、日本への輸入には有利にはたらくが、日本からの輸出には不利にはたらくといわれる。

下書き用

.....

- (ア) 円高 (イ) 円安

【裏へつづく】

3 京太さんのクラスでは、持続可能な社会について考えるために、調べ学習に取り組んだ。次の表は、各班が設定したテーマと調べたことからの一覧である。これを見て、下の問い(1)～(5)に答えよ。(10点)

	テーマ	調べたことから
1班	防災・安全	さまざまな自然災害、災害に強いまちづくり、交通安全、防犯対策
2班	環境・科学技術	循環型社会、地球温暖化、再生可能エネルギーの開発、情報通信技術の発達
3班	伝統文化・宗教	① <u>伝統文化の継承と保存</u> 、日本文化のグローバル化、多文化共生社会、世界の宗教
4班	人権・平和	② <u>国際連合</u> 、第二次世界大戦後の地域紛争、非核三原則、ユニバーサルデザイン
5班	日本の政治と経済	③ <u>政府の役割と財政</u> 、④ <u>国民の政治参加</u> 、景気変動とその対策、企業の社会的責任

(1) 各班は、設定したテーマについて調べ学習を進めるために、さまざまな資料を活用した。次の(ア)～(オ)は、各班が活用した資料をそれぞれ1つずつ示したものである。1班が活用した資料と2班が活用した資料として最も適当なものを、(ア)～(オ)からそれぞれ1つずつ選べ。……………答の番号【16】

- (ア) 日本のおもな年中行事一覧表 (イ) 日本銀行の金融政策を報じた新聞記事  
 (ウ) 国別インターネット普及率の推移グラフ (エ) 京都市内の避難場所などを示したハザードマップ  
 (オ) 地域別及び国別難民発生数の主題図

(2) 3班は、下線部①伝統文化の継承と保存について調べ、近畿地方に国宝や重要文化財が多いことに気づいた。右の資料Iは、国宝・重要文化財に指定されている建造物の件数、人口、面積の3つのことからについて数値の大きい順にそれぞれ並べたときの近畿地方の各府県の全国順位を示したものである。資料I中のAとCにあたるものを、次の(ア)～(エ)からそれぞれ1つずつ選べ。……………答の番号【17】

資料I

	国宝・重要文化財に指定されている建造物の件数の全国順位(2014年12月1日現在)	人口の全国順位(2014年)	面積の全国順位(2014年)
A	1位	13位	31位
B	2位	30位	40位
滋賀県	3位	26位	38位
C	4位	7位	12位
D	5位	3位	46位
和歌山県	7位	40位	30位
三重県	34位	22位	25位

文化庁ホームページ及び「データでみる県勢2016年版」より作成

(3) 4班は、下線部②国際連合について調べた。次のA～Cは、国際連合の総会で採択された人権に関する条約や宣言である。A～Cを採択された順に並べかえ、記号で書け。……………答の番号【18】

- A 子ども(児童)の権利条約 B 障害者権利条約 C 世界人権宣言

(4) 5班は、下線部③政府の役割と財政について調べ、国民全体が一定期間に得る所得の総額を国民所得とよぶことを知った。右の資料IIは、日本、アメリカ、イギリス、スウェーデンのそれぞれの国民所得に占める社会保障支出の割合と国民負担率を表にしたものである。また、右の資料IIIは、5班が作成中の図であり、横軸は国民所得に占める社会保障支出の割合の大小を、縦軸は国民負担率の高低を、それぞれ示している。資料II中の日本を資料III中の交点Pに位置付けたとき、灰色で塗って示した範囲に位置する資料II中の国を、次のi群(ア)～(ウ)から1つ選べ。また、財政を立て直そうとして日本で行われたこととして最も適当なものを、下のii群(カ)～(ケ)から1つ選べ。…答の番号【19】

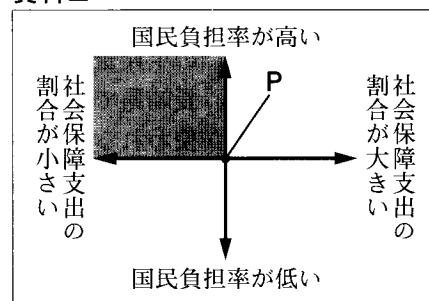
資料II

	国民所得に占める社会保障支出の割合(2011年)	国民負担率(2011年)
日本	32.1%	39.8%
アメリカ	24.3%	30.8%
イギリス	30.6%	47.4%
スウェーデン	38.3%	58.2%

(注：国民負担率は、国民の税負担と社会保障負担が国民所得に占める割合を示している。)

厚生労働省資料より作成

資料III



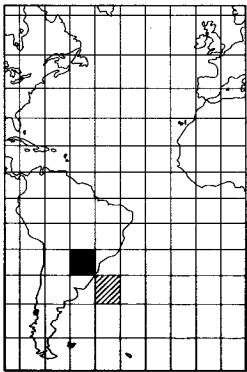
- i群 (ア) アメリカ (イ) イギリス (ウ) スウェーデン  
 ii群 (カ) 鎌倉幕府は、承久の乱の後、京都に六波羅探題を置いた。  
 (キ) 豊臣秀吉は、刀狩を行い、農民から武器を取り上げた。  
 (ク) 徳川綱吉は、質を落とした貨幣を大量に発行した。  
 (ケ) 1994年、製造物責任法(PL法)が制定された。

(5) 次の文章は、下線部④国民の政治参加について、5班が調べたことをまとめたものである。文章中のAに入る最も適当な語句を漢字2字で書け。また、Bに入る数字を書け。……………答の番号【20】

主権者である国民の意見や要求を政治に反映させるとともに、人権保障を確かなものにするために、日本国憲法では、選挙権、被選挙権、請願権などのA権を保障している。日本では、2016年6月に公職選挙法等の一部を改正する法律が施行され、選挙権年齢は満B歳以上となった。

【社会おわり】

# 検査 2 社会 正答表

問題番号	答の番号	答の欄		備考欄		
					配点	
1	(1)	【1】	㊦		【1】	1
	(2)	【2】	㊦		【2】	<sup>3</sup> (1, 2)
	10度ごとの緯線と経線で囲まれた範囲のうちから、地球上で那覇の正反対となる地点を含む最小の範囲を1つ選び、その範囲にあたる部分をすべて黒く塗って示せ。					
	(3)	【3】	( B ) → ( D ) → ( C ) → ( A )		【3】	完全解答 2
	(4)	【4】	i群 ㊦	ii群 ㊦	【4】	2 (各1)
(5)	【5】	㊦	㊦	【5】	完全解答 2	
2	(1)	【6】	i群 ㊦	ii群 ㊦	【6】	完全解答 2
	(2)	【7】	㊦		【7】	2
	(3)	【8】	P K O	㊦	【8】	2 (各1)
	(4)	【9】	i群 ㊦ ii群 ㊦	iii群 ㊦	【9】	イ・力は完全解答 2 (各1)
	(5)	【10】	最も高い地点 ㊦	最も低い地点 ㊦	【10】	完全解答 2
	(6)	【11】	㊦	清	【11】	2 (各1)
	(7)	【12】	i群 ㊦	ii群 ㊦	【12】	2 (各1)
	(8)	【13】	A ㊦ B ㊦ C ㊦		【13】	完全解答 2
	(9)	【14】		㊦	【14】	2
	(10)	【15】	(例) 円 の 価 値 が 上 が る	㊦	【15】	完全解答 2
3	(1)	【16】	1班 ㊦	2班 ㊦	【16】	2 (各1)
	(2)	【17】	A ㊦	C ㊦	【17】	完全解答 2
	(3)	【18】	( C ) → ( A ) → ( B )		【18】	完全解答 2
	(4)	【19】	i群 ㊦	ii群 ㊦	【19】	2 (各1)
	(5)	【20】	A 参 政	B 1 8	【20】	2 (各1)